

M1 IPCC : Bases du Traitement du Signal

Examen 2e session - Durée : 1h30

14 juin 2006

Documents et calculatrices autorisés, téléphones interdits.

Les réponses au QCM doivent être portées directement sur le premier feuillet, qui est à rendre avec votre copie. Les exercices peuvent être traités dans l'ordre qui vous conviendra, mais ne dispersez pas les réponses d'un même exercice dans la copie.

1 Questions de cours

1.1 QCM (5 points)

Pour chaque question, cochez toutes les affirmations justes. Le barème est de 1 point si votre réponse est entièrement correcte, 0 sinon.

1)

- Un signal sinusoïdal de 990Hz échantillonné à la fréquence de 1000Hz est perçu comme étant à 10Hz
- Un signal sinusoïdal de 10Hz échantillonné à la fréquence de 1000Hz est perçu comme étant à 10Hz

2) La transformée en z , $X(z)$, d'un signal $x(n)$ et sa transformée de Fourier $X(\nu)$ coïncident pour :

- $|z| = 1$ $|z| < 1$
- $z = e^{j2\pi\nu}$, où ν désigne la fréquence normalisée

3)

- La sortie d'un filtre numérique est égale au produit de convolution du signal d'entrée par la réponse fréquentielle du filtre
- La sortie d'un filtre numérique est égale au produit de convolution du signal d'entrée par la réponse impulsionnelle du filtre.
- Le spectre de la sortie est égal au produit simple du spectre de l'entrée par la réponse fréquentielle du filtre

4) La figure 1 représente la réponse fréquentielle en module d'un filtre numérique, en fréquence normalisée, de -1,5 à 1,5. Ce filtre est

- passe-bas
- passe-haut
- passe-bande
- instable

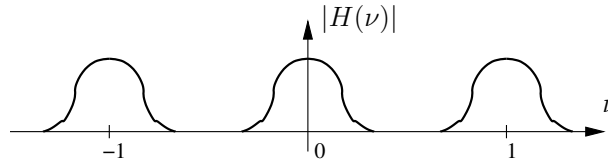


FIG. 1 – Réponse fréquentielle d'un filtre numérique.

5) Le filtre numérique dont le diagramme pôles-zéros est représenté sur la figure 2

- est un filtre passe-bas
- est un filtre passe-haut
- est un filtre passe-bande
- est stable

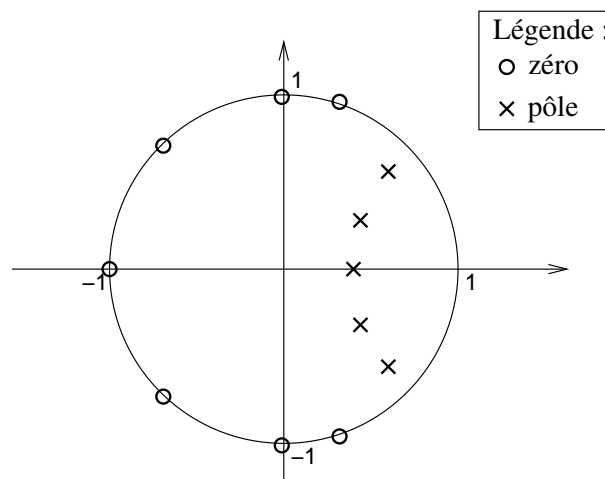


FIG. 2 – Diagramme pôles-zéros.

1.2 Questions ouvertes (2 points)

Ces questions appellent des réponses courtes.

- 1) Soit un système de restauration d'archives sonores (numérisées) qui corrige chaque échantillon du signal en fonction des échantillons précédents et suivants. Ce système est-il causal ? (justifier)
- 2) En quoi la troncature d'une réponse impulsionnelle modifie-t-elle la réponse fréquentielle ?

2 Exercices

Rappel : Toutes les réponses doivent être justifiées.

2.1 Analyse d'un filtre numérique (7,5 points)

La figure 3 représente le diagramme pôles-zéros d'un filtre numérique. Les zéros et les pôles ont pour modules respectifs λ et μ et pour arguments respectifs $\pm\alpha$ et $\pm\beta$.

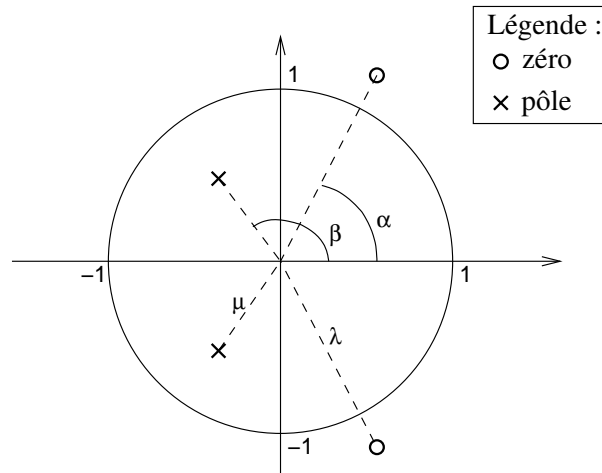


FIG. 3 – Diagramme pôles-zéros.

- 1) Indiquez la nature du filtre (passe-haut, passe-bas, ...). Est-ce un filtre à réponse impulsionnelle finie ou infinie ? Est-il stable ?
- 2) Ecrire la fonction de transfert $H(z)$ sous la forme :

$$H(z) = \frac{1 + b_1 z^{-1} + b_2 z^{-2}}{1 + a_1 z^{-1} + a_2 z^{-2}}$$

en précisant les valeurs des coefficients. **La suite de l'exercice peut toutefois être faite sans connaître ces valeurs.**

- 3) Ecrire l'équation aux différences et dessiner la structure du filtre.
- 4) Ce filtre est implanté sur un processeur de traitement de signal (DSP), dont l'opération de base est la multiplication-accumulation (MAC), de type $y = ax + b$. Le processeur peut effectuer 1 MAC en 1 cycle d'horloge.
 - a) Quelle est la complexité du filtre en nombre de MAC ?
 - b) On dispose d'un processeur de fréquence d'horloge 10 MHz. Quelle est la fréquence maximale d'échantillonnage du signal ?

2.2 Échantillonnage (5,5 points)

Un signal $x(t)$, dont le spectre d'amplitude $|X(\nu)|$ est représenté sur la figure 4, a été échantillonné à la fréquence $\nu_e = 1/T_e$, qui respecte le théorème de Shannon. A partir des échantillons $x[n]$, on peut théoriquement reconstruire parfaitement le signal continu $x(t)$, selon la formule d'interpolation suivante :

$$x(t) = T_e \sum_{n \in \mathbb{Z}} x[n] \text{sinc}(\pi \nu_e t - \pi n) \quad (1)$$

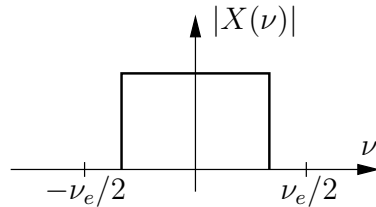


FIG. 4 – Spectre d'amplitude de $x(t)$.

1) Dans le cas pratique où l'on souhaite reconstruire le signal continu au fur et mesure que l'on reçoit les échantillons $x[n]$ (communication téléphonique par exemple), expliquer pourquoi cette formule n'est pas utilisable.

2) On utilise alors un *échantillonneur bloqueur*, qui reconstruit $x(t)$ "en escalier" à partir des valeurs $s[n]$ successives, comme illustré sur la figure 5. Le signal reconstruit $\hat{x}(t)$ s'exprime alors :

$$\hat{x}(t) = x[n] = x(nT_e) \quad \forall t \in [nT_e; (n+1)T_e]$$

On peut ainsi représenter $\hat{x}(t)$ comme une somme d'impulsions rectangulaires pondérées par les échantillons $x[n]$:

$$\hat{x}(t) = \sum_{n \in \mathbb{Z}} x[n] h(t - nT_e)$$

où h représente une fonction porte, qui vaut 0 partout sauf entre 0 et T_e .

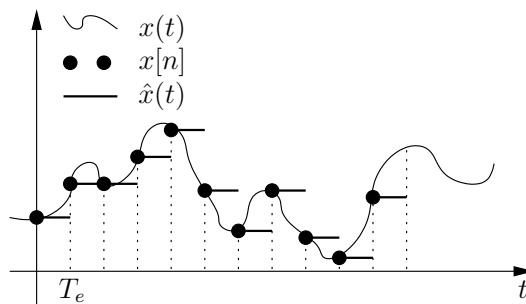


FIG. 5 – Reconstruction de $x(t)$ par un échantillonneur bloqueur.

a) Montrer que le spectre de $\hat{x}(t)$ vaut :

$$\hat{X}(\nu) = H(\nu) X_e(\nu)$$

où $X_e(\nu)$ désigne le spectre du signal échantillonné. On rappelle que $\text{TF}[x(t-a)] = X(\nu)e^{-j2\pi\nu a}$.

b) Sachant que $|H(\nu)| = T_e |\text{sinc}(\pi\nu T_e)|$ (voir figure 6), représenter le spectre d'amplitude du signal reconstruit, $|\hat{X}(\nu)|$. Comment cela se traduit-il physiquement (par exemple pour un signal sonore) ? Comment peut-on éviter une partie de cette altération du signal reconstruit ?

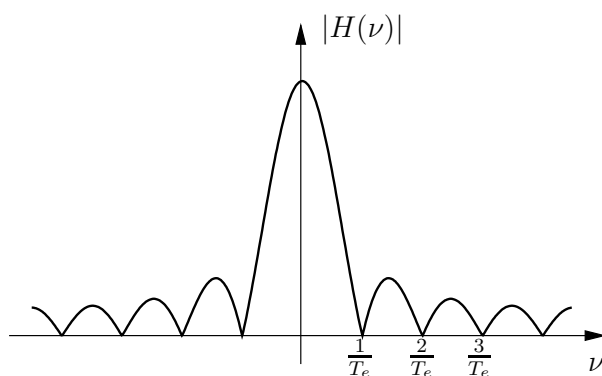


FIG. 6 – Spectre d'amplitude d'une fenêtre rectangulaire de longueur T_e .