

M1 informatique : Traitement du signal et des images

Epreuve de contrôle continu - Durée : 1h30

7 novembre 2014

Documents, calculatrices et téléphones interdits.

Les sous-parties peuvent être traités dans l'ordre qui vous conviendra, mais ne dispersez pas les réponses d'une même sous-partie dans la copie.

1 Questions de cours signaux 1D (7 points)

NB : Ces questions appellent des réponses assez courtes, mais clairement justifiées.

- a) Sur la figure 1 sont représentés deux signaux temporels, 1 et 2, et deux spectres d'amplitude, A et B. Indiquer quel spectre peut correspondre à quel signal, en justifiant votre réponse. Pour la figure B, justifiez précisément l'allure du spectre.

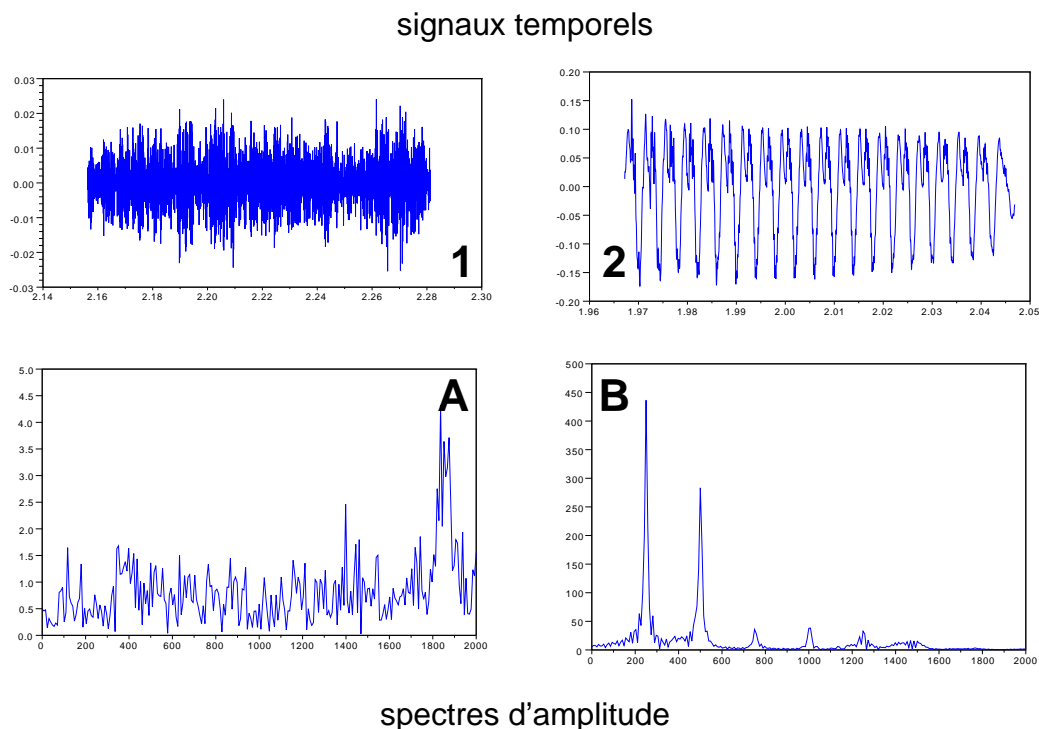


FIGURE 1 – Appariement signal / spectre.

- b) Pourquoi un signal bref (un claquement, par exemple) ne peut-il avoir un spectre étroit ? Quelle est la largeur minimale de son spectre ?
- c) Quelles sont les deux étapes de la numérisation d'un signal ?
- d) Pourquoi le spectre d'amplitude représenté sur la figure 2 (nul en dehors de l'intervalle $[0; \nu_0]$) ne peut-il être celui d'un signal réel échantillonné ? (deux raisons à donner)

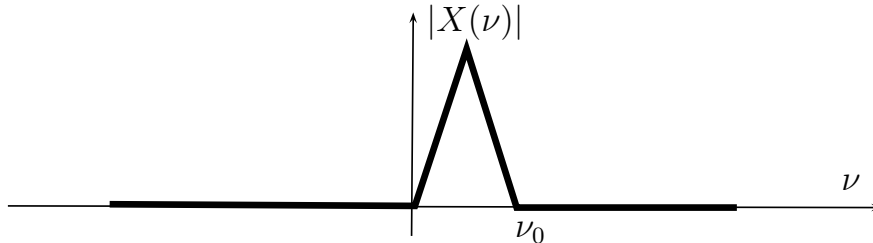


FIGURE 2 – Un étrange spectre d'amplitude.

- e) Soit un signal analogique x de spectre à support borné par ± 8 kHz. Ce signal est échantillonné à 32 kHz. Soit x_e le signal échantillonné. En ne conservant qu'un échantillon sur deux de x_e , perd-on de l'information ? (justifier)
- f) On peut reconstruire parfaitement un signal $x(t)$ à partir de sa version échantillonnée $x[n]$ selon la formule :

$$s(t) = T_e \sum_{n \in \mathbb{Z}} s[n] \text{sinc}(\pi \nu_e t - \pi n)$$

Pourquoi cette formule est-elle difficilement utilisable en pratique ?

1.1 Questions de cours Image (3,5 points)

NB : Ces questions appellent des réponses assez courtes, mais clairement rédigées et justifiées si nécessaire.

- a) Quels sont les deux processus sur lesquels repose l'acquisition d'image ?
- b) Montrez le lien entre ces deux processus et les notions de résolution spatiale et tonale de l'image.

2 Exercices

Rappel : Toutes les réponses doivent être clairement rédigées et justifiées.

2.1 Exercice Image (3,5 points)

- a) Après avoir rappelé la définition d'histogramme et d'histogramme cumulé normalisé, retrouver pour chaque image de la figure 3 la correspondance entre image, histogramme, et histogramme cumulé normalisé.

b) Si l'on suppose que l'image originale est l'image A, à votre avis quel traitement a été utilisé pour obtenir l'image C ?

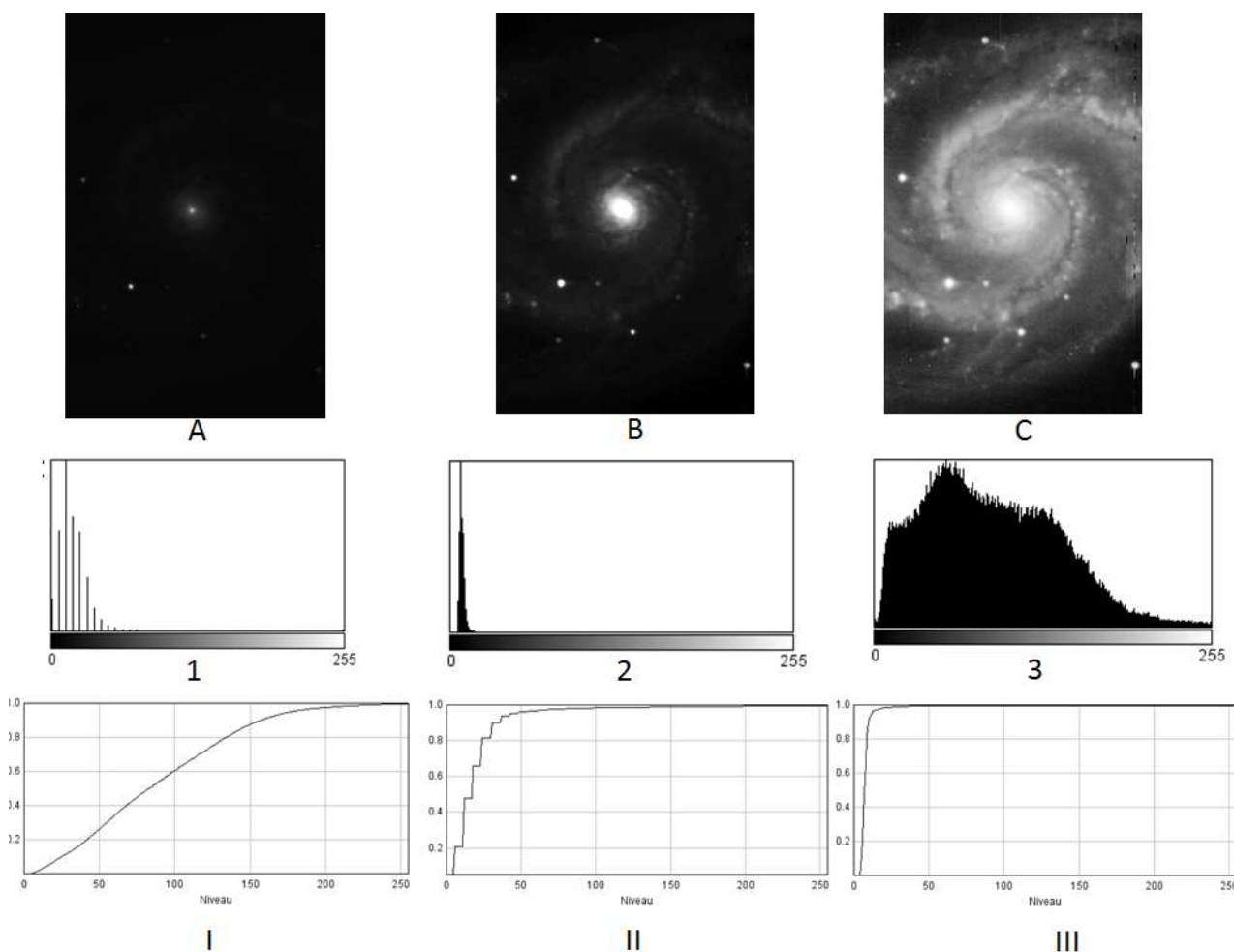


FIGURE 3 – Quizz : Images, Histogrammes et Histogrammes cumulés normalisés.

2.2 Transmission par modulation de porteuse (3 points)

On transmet un signal $m(t)$, dont le spectre d'amplitude est représenté sur la figure 4, par modulation d'une porteuse $p(t) = \cos(2\pi\nu_0 t)$ de fréquence ν_0 nettement supérieure à la fréquence maximale ν_{max} . Le signal transmis est : $s(t) = m(t)p(t)$.

a) Dessinez le spectre d'amplitude de s .

b) Que faut-il faire en réception du signal $s(t)$ pour récupérer le signal d'information $m(t)$? Vous expliquerez précisément les étapes, avec des dessins.

2.3 Echantillonnage (3 points)

Soit un signal $x(t)$ constitué de deux sinusoïdes de fréquences respectives $\nu_1 = 100$ Hz et $\nu_2 = 600$ Hz :

$$x(t) = \cos(2\pi\nu_1 t) + \cos(2\pi\nu_2 t)$$

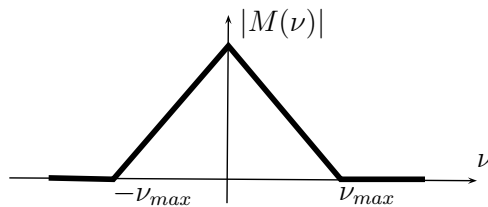


FIGURE 4 – Spectre d'amplitude du modulant.

- a) Dessinez le spectre d'amplitude de x (sans vous préoccuper des valeurs exactes en ordonnée).
- b) On échantillonne x à la fréquence d'échantillonnage $\nu_e = 1$ kHz. Dessinez le spectre du signal échantillonné, entre -1,5 kHz et +1,5 kHz.
- c) Si l'on reconstruit un signal analogique à partir de ce signal échantillonné, qu'obtient-on ?

3 Formulaire

Transformée de Fourier :

$$\begin{aligned} \text{TF}[x(t)] = X(\nu) &= \int_{-\infty}^{+\infty} x(t)e^{-j2\pi\nu t} dt \\ \text{TF}^{-1}[X(\nu)] = x(t) &= \int_{-\infty}^{+\infty} X(\nu)e^{j2\pi\nu t} d\nu \\ \text{TF}[s(t-a)] &= e^{-j2\pi\nu a} S(\nu) \\ \text{TF}[s(t)e^{j2\pi\nu_0 t}] &= S(\nu - \nu_0) \\ \text{TF}[e^{j2\pi\nu_0 t}] &= \delta(\nu - \nu_0) \end{aligned}$$

Durée utile T d'un signal réel $s(t)$:

$$\left(\frac{T}{2}\right)^2 = \int_{-\infty}^{+\infty} t^2 s(t)^2 dt$$

Largeur utile B du spectre du signal :

$$\left(\frac{B}{2}\right)^2 = \int_{-\infty}^{+\infty} \nu^2 |S(\nu)|^2 d\nu$$

Relation d'incertitude :

$$T.B \geq \frac{1}{\pi}$$

Transformée de Fourier à temps discret :

$$S_e(\nu) = \text{TFTD}(s[n]) = \sum_{n \in \mathbb{Z}} s[n] e^{-j2\pi n T_e \nu}$$

Formule de Poisson :

$$S_e(\nu) = \nu_e \sum_{k \in \mathbb{Z}} S(\nu - k\nu_e)$$